

Test de niveau – pour une entrée en CE1 – Mathématiques



Nom et prénom de l'élève : Date :

1) Donne le nombre qui est avant à gauche et celui qui est après à droite.

/4 points

	12	
	64	
	50	
	99	

2) Range les nombres du plus petit au plus grand :

/2 points


26 ; 86 ; 74 ; 5 ; 47

..... ; ; ; ;

3) Géométrie

/2 points

Colorie 3 carreaux en rouges sur la ligne du haut.
Puis 3 carreaux bleus sur la ligne en dessous



4) Calcule mentalement : Complète (tu peux te servir de jetons, d'allumettes...)

/3 points

7 + = 10 10 - = 8 64 + = 67

5) Opérations : Tu peux les faire en ligne ou les poser. Sers-toi de jetons ou d'allumettes.

/4 points

21 + 14 = 11 + 8 = 28 - 4 = 37 - 15 =

$\begin{array}{r} 21 \\ + 14 \\ \hline \end{array}$
 $\begin{array}{r} 11 \\ + 8 \\ \hline \end{array}$
 $\begin{array}{r} 28 \\ - 4 \\ \hline \end{array}$
 $\begin{array}{r} 37 \\ - 15 \\ \hline \end{array}$

6) Problèmes

/5 points

Remarque : l'enfant peut prendre des jetons ou des allumettes pour calculer



A- Malo a 28 billes et il en gagne 15 en jouant. Combien de billes a-t-il en tout ?

Opération posée



B- 17 oiseaux sont dans un arbre. 6 s'envolent. Combien restent sur l'arbre ?

Opération posée



Score total / 20